


בדקו את עצמכם

1. הריבוע הגדול הוא השלם.


השלימו את החסר בכל סעיף - אחוזים, מספר עשרוני, שבר או ציור.

ב




שבר	מספר עשרוני	אחוזים

א




שבר	מספר עשרוני	אחוזים
	0.05	

ד



שבר	מספר עשרוני	אחוזים
$\frac{40}{100}$		

ג




שבר	מספר עשרוני	אחוזים
		21%

בדיקה: חברו את השברים בארבעת הסעיפים:


האם קיבלתם את הסכום $1\frac{1}{2}$?






2. כתבו אחוזים או שבר מצומצם עד הסוף. אפשר להיעזר בצביעת הריבועים.

5%		75%		50%	אחוזים
	$\frac{3}{5}$		$\frac{7}{10}$		שבר מצומצם עד הסוף



3. איזה חלק מהעיגול צבוע? הקיפו את האחוזים המתאימים ביותר בכל סעיף והשלימו את השבר ואת המספר העשרוני המתאימים לאחוזים שהקפתם.

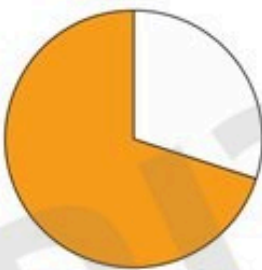
ג



25% 15% 5%

שבר	מספר עשרוני


ב



80% 75% 70%

שבר	מספר עשרוני

א



30% 45% 25%

שבר	מספר עשרוני

בדיקה: האם סכום המספרים העשרוניים שכתבתם הוא 1.15?

